




VESTIBULAR 2010

ÁREA DE HUMANIDADES  
**PROVA DE CONHECIMENTOS ESPECÍFICOS**

CADERNO DE QUESTÕES

- ✓ Verifique se estão corretos seu nome e número de inscrição impressos na capa deste caderno.
- ✓ Assine com caneta de tinta azul ou preta apenas no local indicado.
- ✓ Esta prova contém 15 questões discursivas.
- ✓ A prova terá duração total de 4 horas.
- ✓ O candidato somente poderá entregar este Caderno e sair do prédio depois de transcorridas 2 horas, contadas a partir do início da prova.
- ✓ A prova deve ser feita com caneta de tinta azul ou preta.
- ✓ A resolução e a resposta de cada questão devem ser apresentadas no espaço correspondente. Não serão consideradas questões resolvidas fora do local indicado.



**NÃO  
ESCREVA  
NESTE  
ESPAÇO**

01. Leia o anúncio.



(Veja, 24.06.2009.)

- a) Explique que relação de sentido há entre os termos *aperfeiçoamento* e *perfeição* na construção da mensagem publicitária.
- b) A palavra *aperfeiçoamento* deriva do verbo *aperfeiçoar*, que, por sua vez, deriva de *perfeição*. Indique o processo de formação usado em cada caso.

## RESOLUÇÃO

	RESERVADO À BANCA CORRETORA
	a)
	b)
	TOTAL

**02.** Leia o trecho final de *Ubirajara*, de José de Alencar.

Enquanto nas grandes tabas se preparava a festa do triunfo e o herói repousava na rede, Araci foi ao terreiro e voltou conduzindo Jandira pela mão.

— Jandira é irmã de Araci, tua esposa. Ubirajara é o chefe dos chefes, senhor do arco das duas nações. Ele deve repartir seu amor por elas, como repartiu a sua força.

A virgem araguaia pôs no guerreiro seus olhos de corça.

— Jandira é serva de tua esposa; seu amor a obrigou a querer o que tu queres. Ela ficará em tua cabana para ensinar a tuas filhas como uma virgem araguaia ama seu guerreiro.

Ubirajara cingiu ao peito, com um e outro braço, a esposa e a virgem.

— Araci é a esposa do chefe tocantim; Jandira será esposa do chefe araguaia; ambas serão as mães dos filhos de Ubirajara, o chefe dos chefes, e o senhor das florestas.

\* \* \*

As duas nações, dos araguaia e dos tocantins, formaram a grande nação dos Ubirajaras, que tomou o nome do herói.

Foi esta poderosa nação que dominou o deserto.

Mais tarde, quando vieram os caramurus, guerreiros do mar, ela campeava ainda nas margens do grande rio.

---

No Romantismo europeu, os autores voltaram-se a seu passado medieval, na busca de suas origens e de seus valores. No Brasil, essa busca ficou centrada na figura do índio.

- a) Explique como o personagem Ubirajara expressa o ideal exposto, retirando duas expressões do texto que comprovem a sua resposta.
- b) Explique como a relação de amor e, por extensão, entre homem e mulher, é apresentada em *Ubirajara*, retirando trecho do texto que exemplifique sua resposta.

## RESOLUÇÃO

RESERVADO À BANCA CORRETORA	
a)	
b)	
TOTAL	

03. Leia o texto.

O cajueiro floresceu quatro vezes depois que Martim partiu das praias do Ceará, levando no frágil barco o filho e o cão fiel. A jandaia não quis deixar a terra onde repousava sua amiga e senhora.

O primeiro cearense, ainda no berço, emigrava da terra da pátria. Havia aí a predestinação de uma raça?

(...)

Afinal volta Martim de novo às terras, que foram de sua felicidade, e são agora de amarga saudade. Quando seu pé sentiu o calor das brancas areias, em seu coração derramou-se um fogo que o requemou: era o fogo das recordações que ardiam como a centelha sob as cinzas.

Só aplacou essa chama quando ele tocou a terra, onde dormia sua esposa; porque nesse instante seu coração transudou, como o tronco do jataí nos ardentes calores, e orvalhou sua tristeza de lágrimas abundantes.

(...)

Era sempre com emoção que o esposo de Iracema revia as plagas onde fora tão feliz, e as verdes folhas a cuja sombra dormia a formosa tabajara. Muitas vezes ia sentar-se naquelas doces areias, para cismar e acalantar no peito a agra saudade. A jandaia cantava ainda no olho do coqueiro; mas não repetia já o mavioso nome de Iracema.

Tudo passa sobre a terra.

(José de Alencar, *Iracema*.)

Com base nas informações textuais, explique

- a) o porquê do sentimento de saudade referido no trecho: *Afinal volta Martim de novo às terras, que foram de sua felicidade, e são agora de amarga saudade*. Justifique sua resposta com duas passagens do texto.
- b) como se dá a presença da natureza na composição da cena, retirando duas expressões do texto que exemplifiquem sua resposta.

## RESOLUÇÃO

	RESERVADO À BANCA CORRETORA
	a)
	b)
	TOTAL

04. Leia o texto.

*Jesus, que barriga*

De um lado a luz, na forma de uma sorridente e radiante Gisele Bündchen, 28 anos, que em seu único desfile na semana de moda em São Paulo exibiu a beleza simpática de costume – sempre com roupas estrategicamente soltinhas. De outro, na mesma passarela, a cara fechada e o peito aberto de Jesus Luz, 22, não namorado de todo mundo sabe quem.

(Veja, 24.06.2009.)

- a) Tendo como referência o uso coloquial e interjetivo que as pessoas fazem da palavra Jesus e o texto apresentado, faça duas interpretações possíveis e coerentes para a frase *Jesus, que barriga*.
- b) Tomando como parâmetro a referência ao semblante das personalidades citadas, nomeie a relação de sentido estabelecida entre eles, utilizando termos que justifiquem sua resposta.

## RESOLUÇÃO

RESERVADO À BANCA CORRETORA	
a)	
b)	
TOTAL	

05. Considere o texto de Patativa do Assaré.

*Coisas do meu sertão*

Seu dotô, que é da cidade  
Tem diploma e posição  
E estudou derne minino  
Sem perdê uma lição,  
Conhece o nome dos rio,  
Que corre inriba do chão,  
Sabe o nome das estrela  
Que forma constelação,  
Conhece todas as coisa  
Da historia da criação  
E agora qué i na Lua  
Causando admiração,  
Vou fazê uma pergunta,  
Me preste bem atenção:  
Pruquê não quis aprendê  
As coisa do meu sertão?

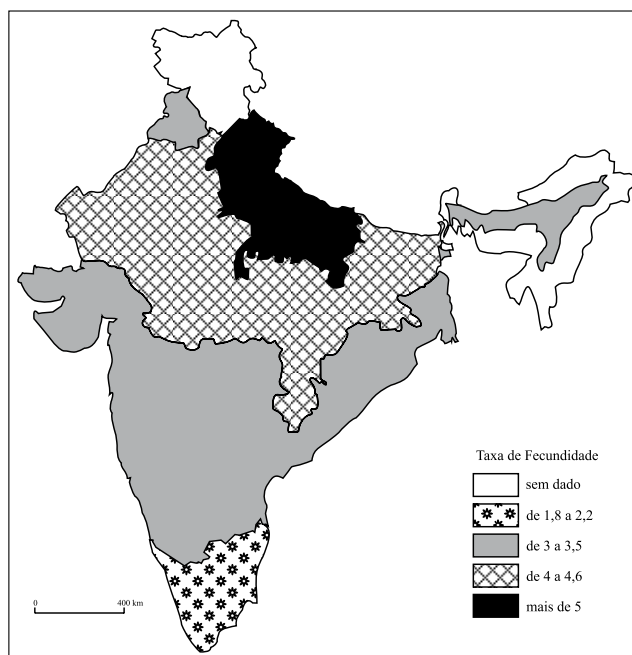
- a) O texto apresentado afasta-se das convenções ortográficas da língua e da norma padrão. Em que medida se podem considerar legítimos os usos nele presentes?
- b) Transponha para a norma padrão da língua as passagens: *E agora qué i na Lua* e *Pruquê não quis aprendê/As coisa do meu sertão?*

## RESOLUÇÃO

	RESERVADO À BANCA CORRETORA
	a)
	b)
	TOTAL

## GEOGRAFIA

06. Observe o mapa da Taxa de Fecundidade da Índia – 2003.



(Atlas géopolitique et culturel, 2005. Adaptado.)

- Descreva a distribuição geográfica da Taxa de Fecundidade na Índia.
- Qual relação pode ser estabelecida entre a Taxa de Fecundidade e a inserção do setor de serviços da Índia na economia mundial? Cite ao menos um exemplo e comente.

## RESOLUÇÃO

RESERVADO À BANCA CORRETORA	
a)	
b)	
TOTAL	



07. Observe a tabela.

EMISSIONES DE CO<sub>2</sub>, POR FONTE DE ENERGIA, EMISSIONES *PER CAPITA*, E SOBRE O TOTAL MUNDIAL, EM PAÍSES SELECIONADOS.

Países selecionados	% de energia gerada da queima de carvão sobre as fontes totais de energia do país		Emissões <i>per capita</i> , em t de CO <sub>2</sub>	% de emissões de CO <sub>2</sub> sobre o total mundial
	1990	2005		
Canadá	11,6	10,3	20,0	2,2
Estados Unidos da América	23,8	23,7	20,6	20,9
Alemanha	36,1	23,7	9,8	2,8
Reino Unido	29,7	16,1	9,8	2,0
China	61,2	63,3	3,8	17,3
Brasil	7,2	6,5	1,8	1,1

(Informe sobre desarrollo humano 2007-2008, PNUD, 2007.)

- Compare a participação do carvão nas fontes de energia da Alemanha, Reino Unido e China em 1990 e 2005.
- Analise o total de emissões de CO<sub>2</sub> *per capita* dos Estados Unidos, Canadá e Brasil e a participação de cada um no total de emissões mundiais, em 2004.

## RESOLUÇÃO

	RESERVADO À BANCA CORRETORA
	a)
	b)
	TOTAL

08. Na década de 1990, verificou-se uma desconcentração industrial no Brasil.

- a) Quais as consequências para o Estado de São Paulo?
- b) Quais estados ganharam maior destaque industrial nesse processo? Explique.

## RESOLUÇÃO

RESERVADO À BANCA CORRETORA	
a)	
b)	
TOTAL	

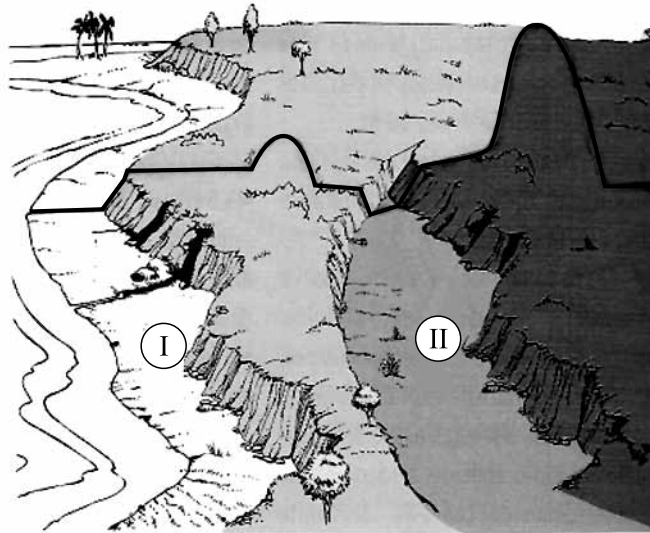
09. A luta pela terra no Brasil ganhou dimensão nacional com a emergência de movimentos sociais e políticas de distribuição de terras pelo governo. Apesar disso, persistem os conflitos no campo brasileiro.

- a) Por que ocorrem conflitos na fronteira agrícola do país?
- b) Qual foi a principal mudança ocorrida nos conflitos no campo brasileiro nos últimos anos? Explique.

## RESOLUÇÃO

	RESERVADO À BANCA CORRETORA
	a)
	b)
	TOTAL

10. Observe a figura.



(As grandes unidades de relevo. Pentead, 1994.)

- a) Identifique corretamente as formas de relevo I e II apontadas na figura.
- b) Explique o processo de formação das formas de relevo I e II.

## RESOLUÇÃO

RESERVADO À BANCA CORRETORA	
a)	
b)	
TOTAL	

## HISTÓRIA

11. (...) é no último quartel do século VII [a.C.] que a economia das cidades (...) volta-se decididamente para o exterior; o tráfico por mar vai então amplamente ultrapassar a bacia oriental do Mediterrâneo, entregue a seu papel de via de comunicação. A zona dos intercâmbios estende-se a oeste até a África e à Espanha, a leste até ao Mar Negro.

(Jean-Pierre Vernant. *As origens do pensamento grego*. São Paulo: Difel, 1991.)

O texto fala da expansão das cidades gregas no século VII a.C. Explique

- a) por que o autor chama o Mar Mediterrâneo de “via de comunicação”.
- b) os principais motivos dessa expansão.

## RESOLUÇÃO

	RESERVADO À BANCA CORRETORA
	<b>a)</b>
	<b>b)</b>
	TOTAL

12. Mercantilismo é o nome normalmente dado à política econômica de alguns Estados Modernos europeus, desenvolvida entre os séculos XV e XVIII. Indique

- a) duas características do Mercantilismo.
- b) a relação entre o Mercantilismo e a colonização da América.

## RESOLUÇÃO

RESERVADO À BANCA CORRETORA	
a)	
b)	
TOTAL	

13. *A paz não passa de um engodo, de uma quimera, de um sonho fugaz; a indústria tornou-se o suplício dos povos, depois que uma ilha de piratas [refere-se à Inglaterra] bloqueia as comunicações (...) e transforma suas fábricas e oficinas em viveiros de mendigos.*

(Charles Fourier. *Théorie des quatre mouvements* (1808), in *Œuvres complètes*. Paris: Anthropos, vol. I, 1978, citado por Elias Thomé Saliba. *As utopias românticas*. São Paulo: Estação Liberdade, 2003.)

O fragmento, escrito em 1808, mostra a visão de Charles Fourier acerca do nascimento das fábricas. Explique

- a) por que o autor chama as fábricas de “viveiros de mendigos”.
- b) o que leva o autor a afirmar que a Inglaterra “bloqueia as comunicações”.

## RESOLUÇÃO

	RESERVADO À BANCA CORRETORA
	a)
	b)
	TOTAL

14. O Plano de Metas de Juscelino Kubitschek, presidente brasileiro de 1956 a 1961, apontava cinco áreas prioritárias de investimentos estatais: energia, transporte, alimentação, indústria e educação. Indique

- a) o tipo de industrialização privilegiado pelo Plano de Metas.
- b) as atribuições que, de acordo com o Plano de Metas, o Estado brasileiro assumia para estimular o crescimento econômico.

## RESOLUÇÃO

RESERVADO À BANCA CORRETORA	
a)	
b)	
TOTAL	



15. *A repressão às manifestações dos trabalhadores do campo e da cidade foi uma das consequências mais imediatas e evidentes da chegada dos militares ao Palácio do Planalto. Houve intervenção nos sindicatos, prisão dos líderes mais destacados, fechamento – por decreto – de sindicatos rurais, além da proibição da existência de entidades intersindicais (...). O controle sobre a economia, a censura imposta aos meios de comunicação, a legislação antigreve, as restrições à livre manifestação permitiram comprimir significativamente os salários.*

(Tania Regina de Luca. *Indústria e trabalho na história do Brasil*. São Paulo: Contexto, 2001.)

O texto trata da ação repressiva durante o regime militar brasileiro (1964-1985). Indique

- a) duas características do regime militar brasileiro na relação com os movimentos sociais e a oposição.
- b) a relação, estabelecida pela autora, entre autoritarismo político e compressão salarial.

## RESOLUÇÃO

	RESERVADO À BANCA CORRETORA
	<b>a)</b>
	<b>b)</b>
	TOTAL





